

	<h1 style="margin: 0;">LES OPÉRATIONS</h1> <p style="margin: 0;">(02)</p>
---	---







• Complète suivant les exemples :

$2 + 3$ ↙ ↘ 5	$2 + 2$ ↙ ↘ 4	$1 + 3$ ↙ ↘ ...	$0 + 5$ ↙ ↘ ...	$4 + 1$ ↙ ↘ ...	$0 + 4$ ↙ ↘ ...
$0 + 1$ ↙ ↘ ...	$0 + 2$ ↙ ↘ ...	$1 + 1$ ↙ ↘ ...	$2 + 1$ ↙ ↘ ...	$0 + 3$ ↙ ↘ ...	$1 + 2$ ↙ ↘ ...
$... + 1$ ↙ ↘ 4	$2 + ...$ ↙ ↘ 2	$... + 1$ ↙ ↘ 3	$2 + ...$ ↙ ↘ 4	$... + 3$ ↙ ↘ 5	$1 + ...$ ↙ ↘ 5

• Complète suivant les exemples :

5 ↙ ↘ 3 2 $3 + 2 =$ 5	4 ↙ ↘ 4 0 $4 + 0 =$ 4	4 ↙ ↘ 1 ... $1 + ... = 4$	5 ↙ ↘ ... 1 $... + 1 = 5$	4 ↙ ↘ 2 ... $2 + ... = 4$	5 ↙ ↘ ... 3 $... + 3 = 5$
3 ↙ ↘ ... 3 $... + 3 = 3$	4 ↙ ↘ 3 ... $3 + ... = 4$	5 ↙ ↘ 4 ... $4 + ... = ...$	4 ↙ ↘ ... 2 $... + 2 = 4$	2 ↙ ↘ ... 2 $... + 2 = 2$	5 ↙ ↘ ... 0 $... + ... = ...$

• Colorie le nombre de cases et complète suivant l'exemple :

 $2 + 3 = 5$	$\begin{array}{r} 3 \\ + 2 \\ \hline 5 \end{array}$	 $4 + 1 = ...$	$\begin{array}{r} 4 \\ + 1 \\ \hline ... \end{array}$
 $2 + ... = 4$	$\begin{array}{r} 2 \\ + ... \\ \hline 4 \end{array}$	 $... + 3 = 6$	$\begin{array}{r} ... \\ + 3 \\ \hline 6 \end{array}$
 $4 + 4 = ...$	$\begin{array}{r} 4 \\ + 4 \\ \hline ... \end{array}$	 $5 + 5 = ...$	$\begin{array}{r} 5 \\ + 5 \\ \hline \end{array}$